

コインの足し算

25枚のコインをマスの中に並べました。タテ・ヨコの合計からコインの並びを推測しましょう。
それぞれ使えるコインは左に示したとおりです。さて、ナナメのコインの合計は何円でしょう？

使えるコイン



					= 115円
					= 125円
					= 35円
					= 160円
					= 85円
					=
205円	40円	85円	165円	25円	<input type="text"/> 円

使えるコイン




					= 17円
					= 45円
					= 18円
					= 32円
					= 22円
					=
9円	31円	45円	26円	23円	<input type="text"/> 円

コインの足し算

25枚のコインをマスの中に並べました。タテ・ヨコの合計からコインの並びを推測しましょう。
それぞれ使えるコインは左に示したとおりです。さて、ナナメのコインの合計は何円でしょう？


010

使えるコイン



					= 75円
					= 125円
					= 40円
					= 58円
					= 63円
					=
72円	21円	165円	62円	41円	<input type="text"/> 円

使えるコイン

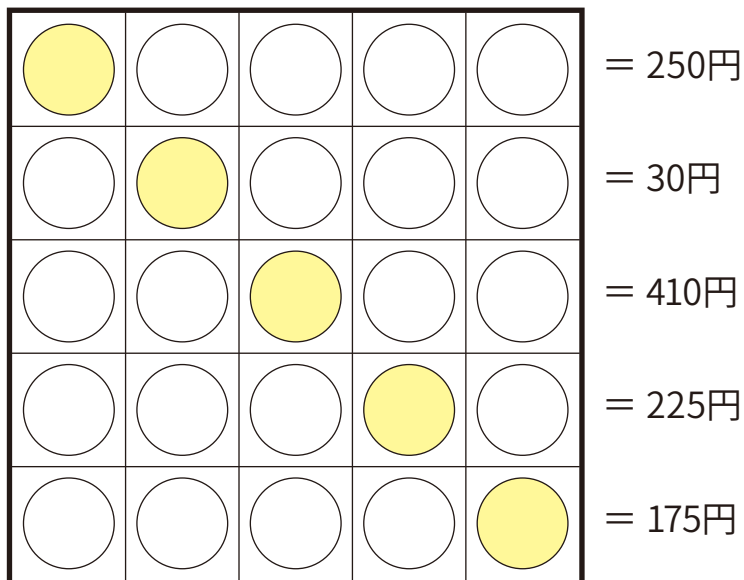



					= 210円
					= 80円
					= 58円
					= 27円
					= 125円
					=
107円	115円	81円	45円	152円	<input type="text"/> 円

コインの足し算

25枚のコインをマスの中に並べました。タテ・ヨコの合計からコインの並びを推測しましょう。
それぞれ使えるコインは左に示したとおりです。さて、ナナメのコインの合計は何円でしょう？

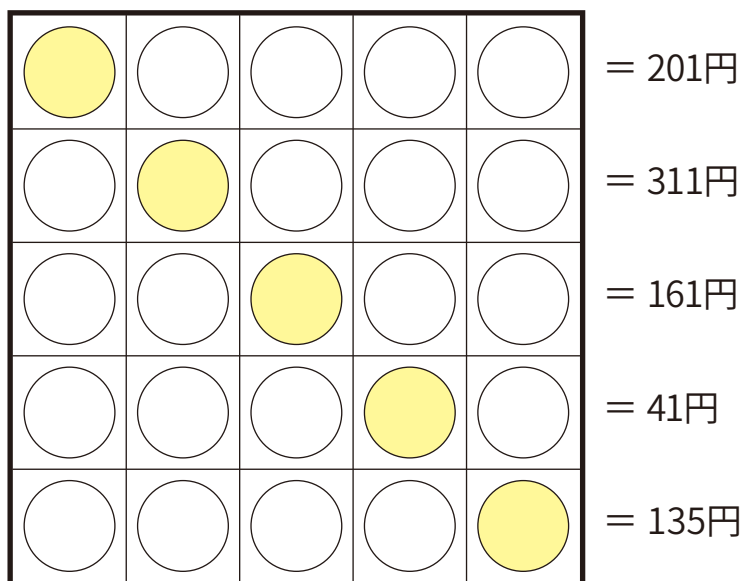

使えるコイン



|| || || || ||
175円 355円 165円 310円 85円

= 円

使えるコイン



|| || || || ||
360円 220円 36円 175円 58円

= 円